



۱- هر عضورا به حس مناسب وصل کن.



حس لامسه



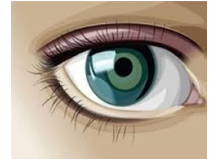
حس بینایی



حس چشایی



حس شنوایی



حس بویایی

۲- فصل ها را نام ببر؟



۳- چه چیزهایی هوا را آلوده می کند؟

۱-


۲-

۳-

۴- طوفان چیست؟

آب از کجا هایی به دست می آید؟

۵- چه جانورانی شب ها فعالیت می کنند یا شب ها شکار می کنند؟



۶- انسان از باد چه استفاده هایی می کند؟

۱-

۲-

۷- باد دارای و است .

خانه ی ما کجاست؟

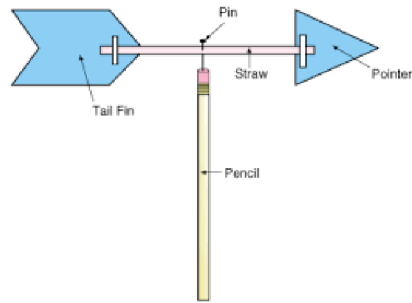
سردی و گرمی هوا را با وسیله ای به نام اندازه می گیریم .

۸- هوای آلوده چه اثری بر زندگی جانوران و گیاهان دارد؟

۹- انسان از آب چه استفاده های می کند؟

۱- ۲- ۳-

۱۰- نام هر تصویر را بنویس.



.....

۱۱- چه طور می شود جهت باد را فهمید؟



۱۲- وقتی نور خورشید به طور کج بتاید آن محل است.

وقتی نور خورشید به طور راست بتاید آن محل است.

نور خورشید در ظهر از نور خورشید در عصر است.

وقتی زمین رو به خورشید است است.

وقتی زمین رو به خورشید است است.



۱۳- زمین در هر ساعت یک بار به دور خود می چرخد.

روز و شب چگونه بوجود می آید؟

باز خورد معلم



نیاز به تلاش بیشتر



قابل قبول



خوب



خیلی خوب